

درس سوم فصل تقارن و مختصات ریاضی ششم (سوالات مهم و پایه‌ای)

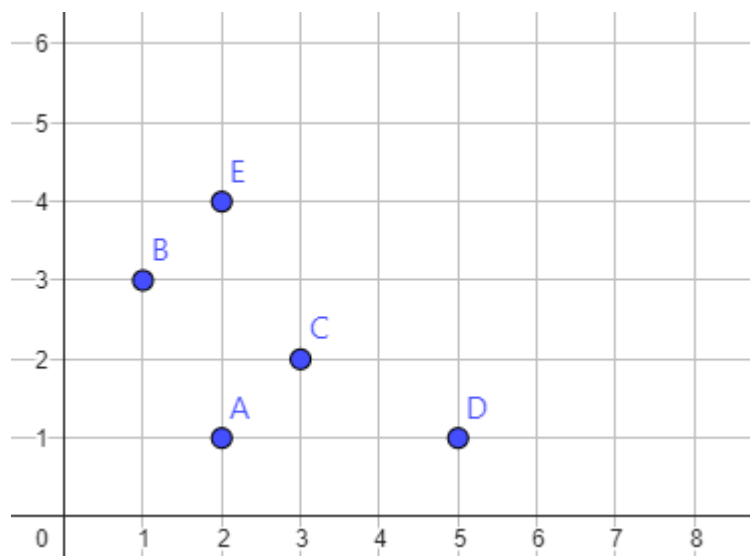
صفحه ۷۴ تا ۷۹ ریاضی ششم استاد اکوان

صفحه مختصات چیست؟ توضیح دهید

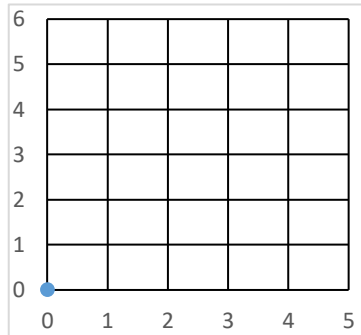
مبدا مختصات یا همان مبدا چیست؟

کاربرد صفحه مختصات چیست؟ توضیح دهید

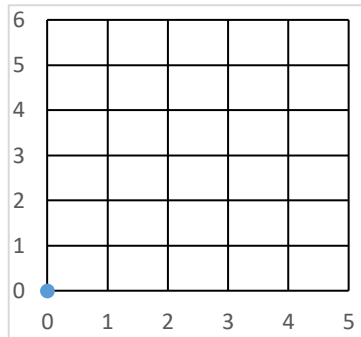
مختصات نقاط زیر را در صفحه مختصات مشخص کنید



نقطه های $\begin{bmatrix} 4 \\ 1 \end{bmatrix}$, $\begin{bmatrix} 3 \\ 2 \end{bmatrix}$, $\begin{bmatrix} 5 \\ 4 \end{bmatrix}$ و $\begin{bmatrix} 1 \\ 4 \end{bmatrix}$ را در صفحه مختصات مشخص کنید



چهار ضلعی با مختصات رأس های $\begin{bmatrix} 1 \\ 1 \end{bmatrix}$, $\begin{bmatrix} 3 \\ 1 \end{bmatrix}$, $\begin{bmatrix} 1 \\ 4 \end{bmatrix}$ و $\begin{bmatrix} 4 \\ 4 \end{bmatrix}$ را رسم کنید و مساحت آن را محاسبه کنید.



پاسخنامه رایگان تشریحی کلیک کنید

نمونه سوالات فصل به فصل ریاضی ششم

www.riazisheshom.ir/cat/9



دبیر: آقای اکوان

لینک ها فعال هستند (کلیک کنید)

ویدیوهای تدریس صفحه به صفحه ریاضی ششم

www.riazisheshom.ir/cat/56

نمونه سوالات فصل به فصل ریاضی ششم

www.riazisheshom.ir/cat/9

نکته های آموزشی ریاضی ششم

www.riazisheshom.ir/cat/48

گام به گام pdf ریاضی ششم

www.riazisheshom.ir/post/62

سایت مرجع (بقیه پایه ها)

www.riazi1000.ir

تدریس خصوصی سراسر کشور (تماس تصویری)

حضوری (فقط تهران) مشاور ثبت نام (خانم هاشمی) ۰۹۱۰-۶۰۱-۱۴۰۰

| غرب | شمال | مرکز و شرق |
|----------|----------|------------|
| ۴۴۴۶۹۹۲۱ | ۲۲۸۶۹۰۳۸ | ۷۶۸۷۵۸۴۵ |



www.riazi1000.ir

تخصصی ترین سایت آموزش ریاضی ایران

تدریس خصوصی: ۰۹۱۰۶۰۱۱۴۰۰



@riazi1000

آدرس کانال مادر تلگرام