

با آزمونهای هفتگی تکنیکهای مدارس برتر تهران را فرا بگیرید.

این سوالات گلچینی از کاربرگ های مدارس تهران می باشد.



@akvanpour

ناظر علمی این آزمون:

دکتر اکوان پور (سرگروه و مشاور آموزشی درس ریاضی)

سوابق آموزشی:

- مدرس دانشگاه
- دبیر رسمی آموزش و پرورش تهران
- دبیر مدارس برتر (مدرسه بین الملل تهران - فارابی - ...)

افتخارات علمی:

- دارنده مدال برنز مسابقات ریاضی کشور

تدریس خصوصی (تهران)

همه ی دروس - همه ی مناطق (از دبستان تا دانشگاه)

غرب

شمال

مرکز و شرق


۴۴۴۶۹۹۲۱

۲۲۸۶۹۰۳۸

۷۶۸۷۵۸۴۵

مشاور ثبت نام (خانم هاشمی) ۱۴۰۰-۶۰۱-۰۹۱۰

طرح



آیا می دانید با ما فرزند شما از دانش آموز هیچ مدرسه ای عقب تر نیست؟

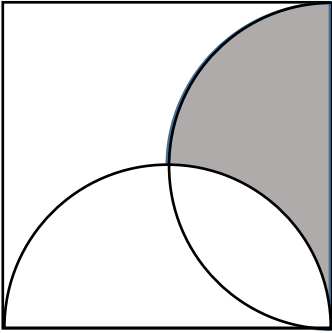
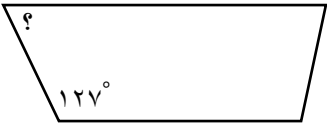
آیا می دانید بصورت هفتگی تکنیک های سراسر تهران را به دانش آموزانمان آموزش می دهیم؟

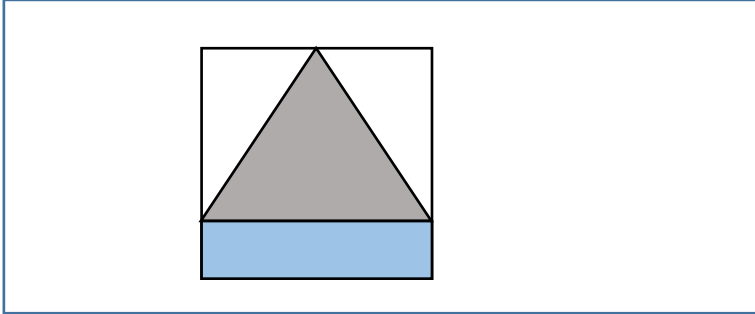
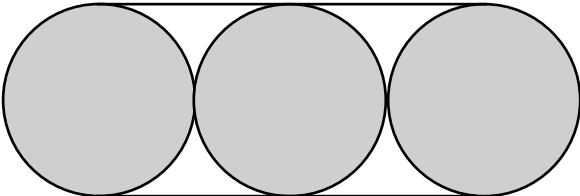
آیا می دانید دانش آموزان رتبه ی برتر در بهترین مدارس تهران نیز از کلاسهای ما استفاده می کنند؟

آیا می دانید هر دانش آموز هر هفته کاربرگ ویژه خود را حل خواهد کرد؟

نام: نام خانوادگی: فصل اندازه گیری	آزمون کد ۸۶۵۳ سایت ریاضی هزار www.riazi1000.ir	مدت امتحان: تاریخ امتحان: پایه: ششم
--	--	---

۱	در جای خالی عدد یا عبارت مناسب بنویسید. (۱) استوانه را اگر از راست یا روبرو نگاه کنیم، می بینیم. (۲) ۱ میلی متر برابر است با متر. (۳) زاویه ای که دو ضلع آن کاملاً بر هم منطبق شده است زاویه ی است. (۴) نیم خطی است که پاره خط را به دو قسمت مساوی تقسیم می کند.
۲	واحدهای اندازه گیری زمان را از کوچک به بزرگ بنویسید. (۸ مورد)
۳	مساحت یک باغ مستطیل شکل یک هکتار است. هر ضلع آن به نظر شما چند متر می تواند باشد؟ (حداقل سه جواب)
۴	۱۳۹۸ میلی مترمربع، چند سانتی متر مربع است؟ (۱) ۰/۰۵۴ سی سی (۲) ۵/۴ سی سی (۳) ۵۴ سی سی (۴) ۵۴۰ سی سی
۵	طول ضلع مربعی ۸۰ متر است. مساحت آن کدام است؟ (۱) ۶۴ هکتار (۲) ۶/۴ هکتار (۳) ۰/۰۶۴ هکتار (۴) ۰/۶۴ هکتار
۶	۱/۶۸ متر چند دسی متر است؟
۷	۵۶ میلی متر برابر با چند متر است؟

<p>۸ برای اندازه گیری حجم یک تکه سنگ کدام وسیله مناسب تر است؟ (۱) متر خیاطی (۲) خط کش (۳) لیوان مدرج (۴) صفحه شطرنجی</p>	۸
<p>۹ ضلع مربع زیر ۲۰ سانتی متر است. مساحت قسمت رنگی را بدست آورید.</p> 	۹
<p>۱۰ اندازه زاویه خواسته شده را بدست آورید.</p> 	۱۰
<p>۱۱ زاویه های متقابل به رأس را تعریف کنید.</p>	۱۱
<p>۱۲ زاویه ی بین عقربه های ساعت شمار و دقیقه شمار در ساعت $۵۲^{\circ} : ۱۶'$ چند درجه است؟</p>	۱۲
<p>۱۳ برای ساخت جعبه ای به ابعاد $۰/۷$ و $۰/۵$ و $۱/۱$ متر چند متر مربع مقوا لازم است؟</p>	۱۳
<p>۱۴ مریم یک تابلو فرش مستطیل شکل بافته است که مساحت آن $۵۵/۲۵$ دسی متر مربع می باشد. اگر عرض ۶۵ سانتی متر باشد. محیط تابلو فرش چقدر است؟</p>	۱۴

<p>یک مستطیل و مثلث درون مربع قرار داده ایم. مساحت مثلث رنگی خمس مساحت مربع است. اگر محیط مربع ۲۰ واحد باشد. مساحت مستطیل آبی رنگ را محاسبه کنید.</p> 	۱۵
<p>شعاع یک تایر اتوبوس $\frac{1}{2}$ متر است. بعد از ده چرخش کامل تایر چند متر حرکت می کند؟</p>	۱۶
<p>برای موزائیک کردن کف یک سالن ۱۵۰ متر مربعی چه تعداد موزائیک های مربع شکل به ضلع ۲۰ سانتی متر نیاز داریم؟</p>	۱۷
<p>طول تسمه ای که اطراف این چرخ ها است چند متر است؟ شعاع چرخ ها ۴۰ سانتی متر است.</p> 	۱۸
<p>کشاورزی ۲۰۰۰ متر مربع از ۳ هکتار زمین خود را سبزیجات کاشته است. او چه کسری از زمینش را سبزیجات کاشته است؟</p>	۱۹
<p>$\frac{0}{7}$ هکتار چند کیلومتر مربع است؟</p>	۲۰

تدریس خصوصی آنلاین (سراسر کشور) حضوری (فقط تهران)

رفع اشکال - تقویتی - تیزهوشان و آزمون ورودی مدارس خاص
توسط برترین دبیران کشور

غرب

۴۴۴۶۹۹۲۱


شمال

۲۲۸۶۹۰۳۸

مرکز و شرق

۷۶۸۷۵۸۴۵

مشاور ثبت نام (خانم هاشمی) ۰۹۱۰-۶۰۱-۱۴۰۰



آیا می دانید با ما فرزند شما از دانش آموز هیچ مدرسه ای عقب تر نیست؟
آیا می دانید بصورت هفتگی تکنیک های سراسر تهران را به دانش
آموزانمان آموزش می دهیم؟
آیا می دانید دانش آموزان رتبه ی برتر در بهترین مدارس تهران نیز از
کلاسهای ما استفاده می کنند؟
آیا می دانید هر دانش آموز هر هفته کاربرگ ویژه خود را حل خواهد کرد؟

حل تمرین و نمونه سوال رایگان
(کلیک کنید)

www.riazisheshom.ir