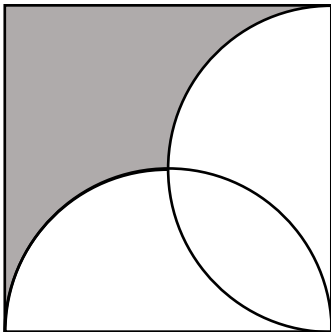
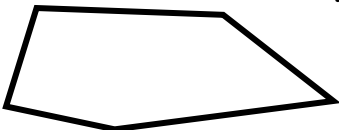
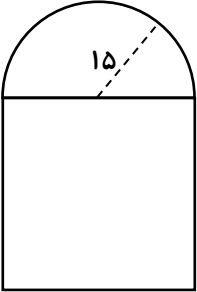

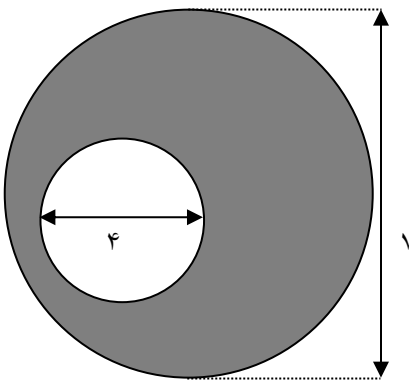
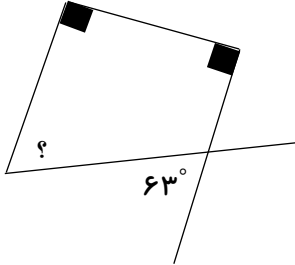


نام: نام خانوادگی: فصل اندازه گیری	آزمون کد 8652 ادرس سایت <a href="http://www.akvanpour.ir">www.akvanpour.ir</a>	مدت امتحان: تاریخ امتحان: پایه: ششم
--	--	---

۱	در جای خالی عدد یا عبارت مناسب بنویسید.  (۱) برای تبدیل واحد بزرگ به واحد کوچک از ..... استفاده می کنیم. (۲) استوانه را اگر از بالا نگاه کنیم ..... می بینیم. (۳) یک هکتار مساحت مربعی است که اندازه هر ضلع آن ..... است. (۴) یک متر، ..... میلی متر است.
۲	واحدهای اندازه گیری طول را از کوچک به بزرگ بنویسید.
۳	۰/۰۰۰۸ متر چند میلیمتر است؟
۴	۵۰ کیلومتر مربع چند هکتار است؟
۵	۹۸ لیتر چند متر مکعب است؟
۶	ضلع مربع زیر ۲۰ سانتی متر است. مساحت قسمت رنگی را بدست آورید. 
۷	مجموع زاویه های شکل زیر را بدست آورید. 

<p>فاطمه با ۴۸ سانتی متر سیم یک مکعب ساخته است. حجم این مکعب چند متر مکعب است؟</p>	۸
<p>یک هکتار زمینی ۸۰ میلیون تومان است، قیمت یک تکه از زمین که مربعی به طول <math>0/5</math> متر است را محاسبه کنید.</p>	۹
<p>مساحت و محیط شکل زیر را بدست آورید. شکل از یک مربع و نیم دایره ساخته شده است.</p> 	۱۰
<p>حجم مکعبی به ضلع ۸ سانتی متر چند متر مکعب است؟</p>	۱۱
<p>حجم مکعب زیر <math>460/8</math> سانتی متر مکعب است. ارتفاع آن چند سانتی متر است؟</p> 	۱۲
<p>چند سانتی متر مکعب برابر <math>0/37</math> لیتر است؟</p>	۱۳
<p>مجموع ۷ دسی متر مکعب و ۱۲۰۰ میلیمتر مکعب چند لیتر است؟</p>	۱۴

<p>مساحت قسمت رنگی را بدست آورید.</p> 	<p>۱۵</p>
<p>۵۶۷/۸۹ دسی متر مکعب ، ..... میلی متر مکعب است.</p>	<p>۱۶</p>
<p>گسترده یک هرم چهار وجهی را رسم کنید.</p>	<p>۱۷</p>
<p>اندازه ی زاویه ی خواسته شده را پیدا کنید.</p> 	<p>۱۸</p>
<p>یک زاویه ۷ برابر متمم آن است. مکمل آن را پیدا کنید.</p>	<p>۱۹</p>
<p>در یک مثلث قائم الزاویه متساوی الساقین ارتفاع وارد بر وتر ۸ سانتیمتر است مساحت مثلث را پیدا کنید.</p>	<p>۲۰</p>
<p>برای خرید فایل ورد (قابل ویرایش) و پاسخنامه تشریحی کد ۸۶۵۲ کلیک کنید <a href="http://www.akvanpour.ir">www.akvanpour.ir</a></p>	



سایت استاد اکوان پور  
akvanpour.ir (کلیک کنید)

کلیک کنید

[تقریب](#) [نسبت، تناسب](#) [اندازه گیری](#) [تقارن و مختصات](#) [اعداد اعشاری](#) [کسرها](#) [عددها و الگوها](#)

تدریس خصوصی آنلاین سراسر کشور (تماس تصویری)  
حضوری (فقط تهران)

رفع اشکال - تقویتی - تیزهوشان و آزمون ورودی مدارس خاص

غرب

۴۴۴۶۹۹۲۱

شمال

۲۲۸۶۹۰۳۸

مرکز و شرق

۷۶۸۷۵۸۴۵

مشاور ثبت نام (خانم هاشمی) ۰۹۱۰-۶۰۱-۱۴۰۰



برای عضویت در کانال تلگرام @riazi1000 کلیک کنید: